



Reconnaître des figures

5+3

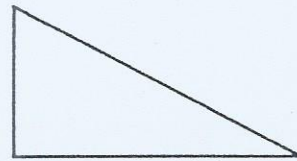
L'ESSENTIEL



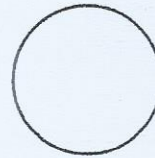
Le carré a 4 côtés de même longueur.



Le rectangle a :
- 2 grands côtés de même longueur,
- 2 petits côtés de même longueur.



Le triangle a 3 côtés.

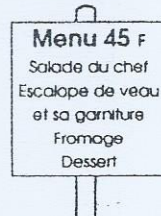



Le cercle est une ligne courbe fermée.

DEFI 1



Relie chaque objet à la forme qui lui correspond.



carré

rectangle

triangle

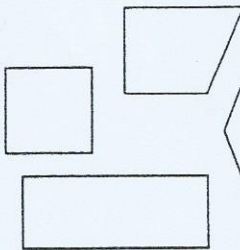
cercle

DEFI 2

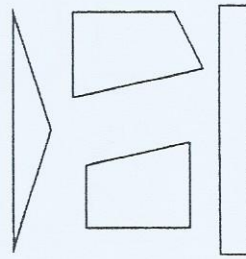


Retrouve et colorie les figures suivantes :


le carré



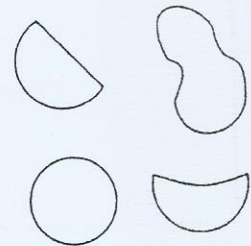
le rectangle



le triangle



le cercle

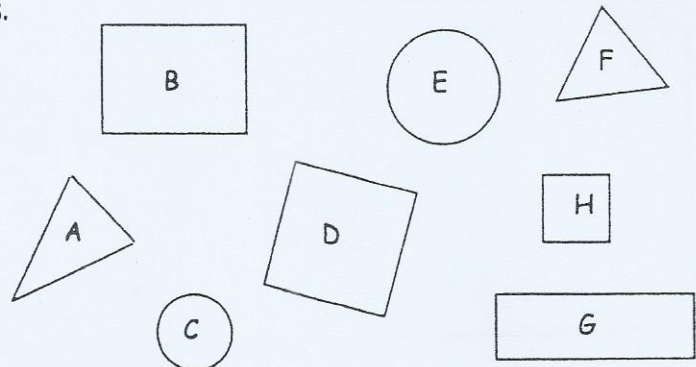


DEFI 3



Classe les figures ci-dessous.

carrés	
rectangles	
triangles	
cercles	



Vérifie tes réponses, puis colorie le clown qui correspond à chaque défi réussi.